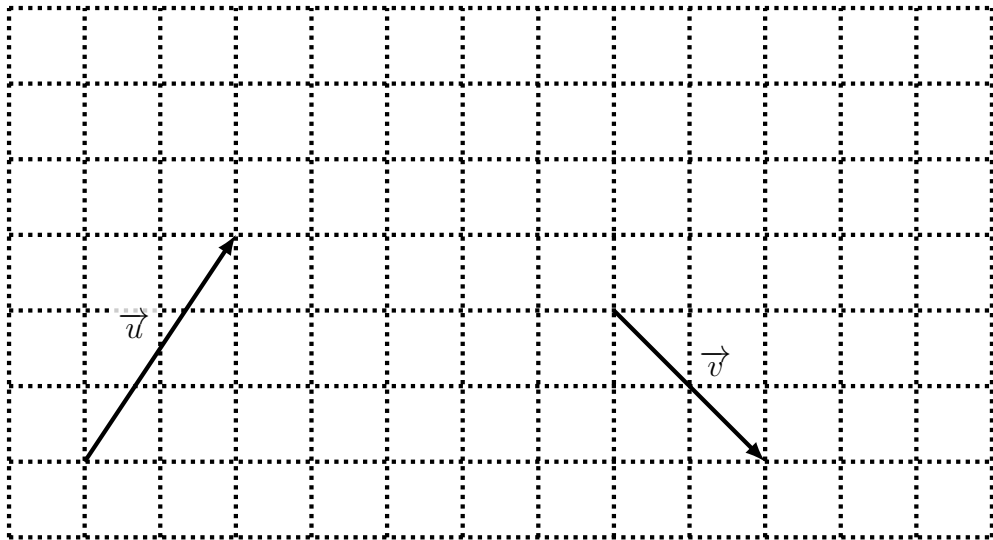


Nom :

AUTOMATISMES — VECTEURS

Sujet A

1. Tracer un représentant du vecteur  $\vec{a} = \vec{u} + \vec{v}$ .
2. Tracer un représentant du vecteur  $\vec{b} = 2,5\vec{v}$ .

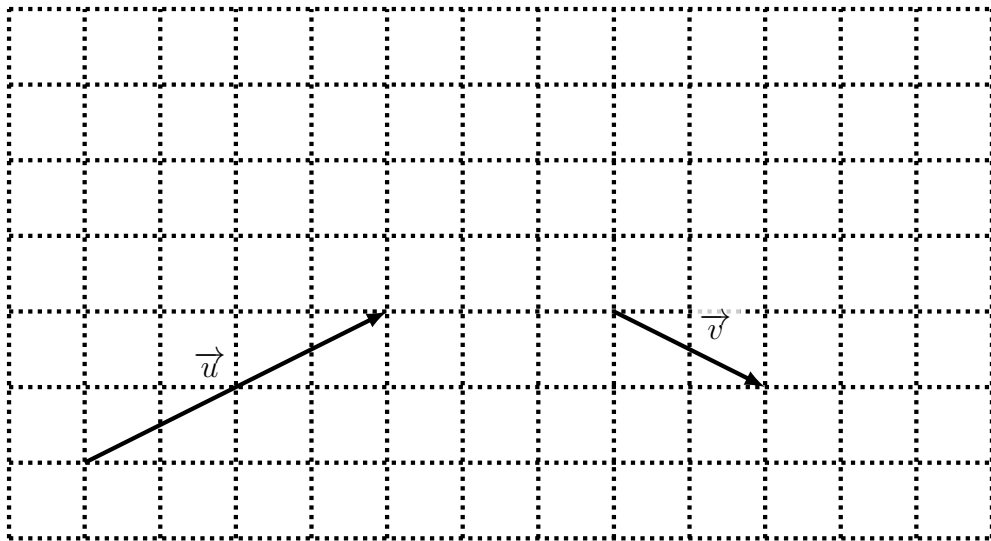


Nom :

AUTOMATISMES — VECTEURS

Sujet B

1. Tracer un représentant du vecteur  $\vec{a} = \vec{u} + \vec{v}$ .
2. Tracer un représentant du vecteur  $\vec{b} = 2,5\vec{u}$ .

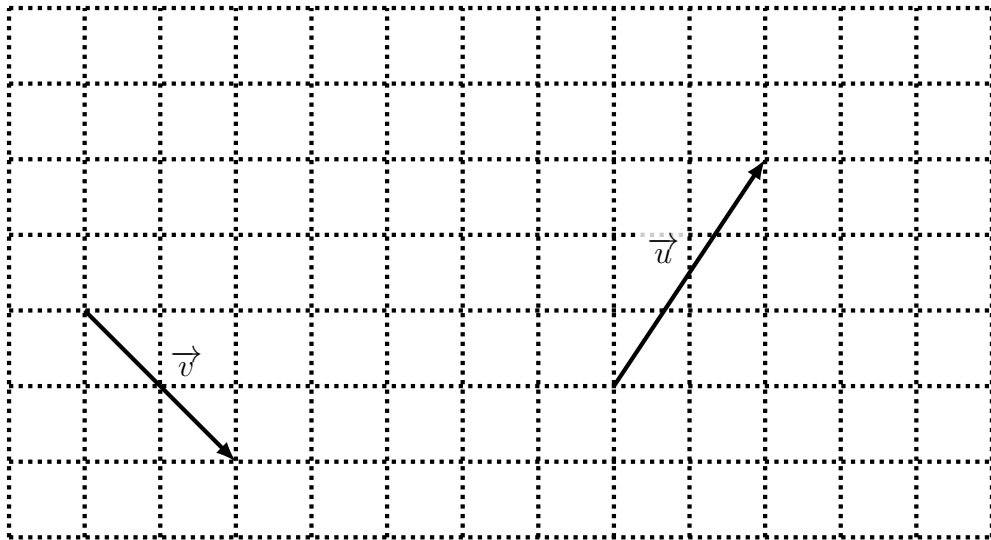


Nom :

AUTOMATISMES — VECTEURS

Sujet C

1. Tracer un représentant du vecteur  $\vec{a} = \vec{u} + \vec{v}$ .
2. Tracer un représentant du vecteur  $\vec{b} = 2,5\vec{v}$ .



Nom :

AUTOMATISMES — VECTEURS

Sujet D

1. Tracer un représentant du vecteur  $\vec{a} = \vec{u} + \vec{v}$ .
2. Tracer un représentant du vecteur  $\vec{b} = 2,5\vec{u}$ .

