

# Activités mentales 1

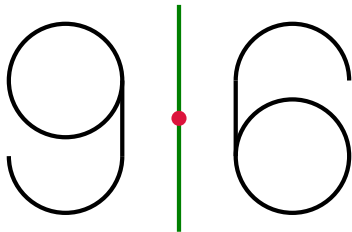
## Fonctions paires et impaires

Lycée Ella Fitzgerald

2024 — 2025

Pour chacune des figures suivantes, dire si elle est symétrique :

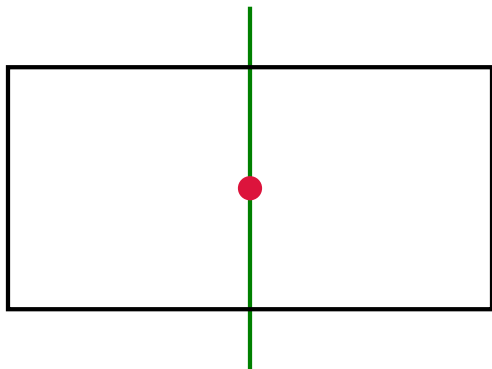
- (a) par rapport à l'axe ;
- (b) par rapport au point.



# Question 1

(a) Symétrie axiale?

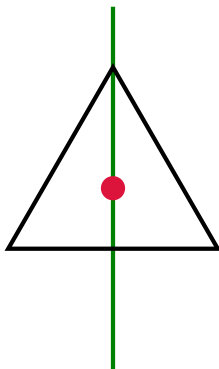
(b) Symétrie centrale?



# Question 2

(a) Symétrie axiale?

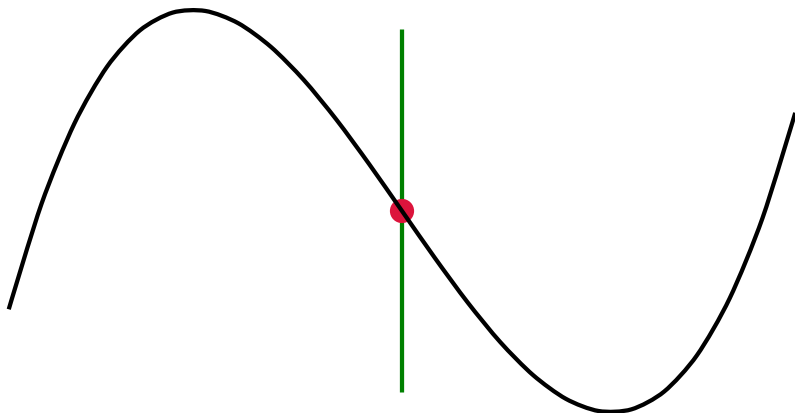
(b) Symétrie centrale?



# Question 3

(a) Symétrie axiale?

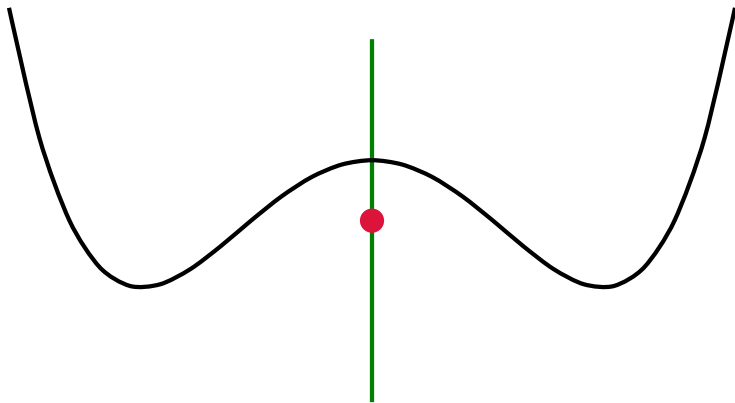
(b) Symétrie centrale?



# Question 4

(a) Symétrie axiale?

(b) Symétrie centrale?



# Question 5

(a) Symétrie axiale?

(b) Symétrie centrale?

